

# Prometni znakovi i propisi





## ***Sudionik u prometu***

*Osoba koja na bilo koji način sudjeluje u prometu na cesti (vozač, suvozač, pješak, putnik, vodič životinja, osoba koja izvodi radove na cesti).*

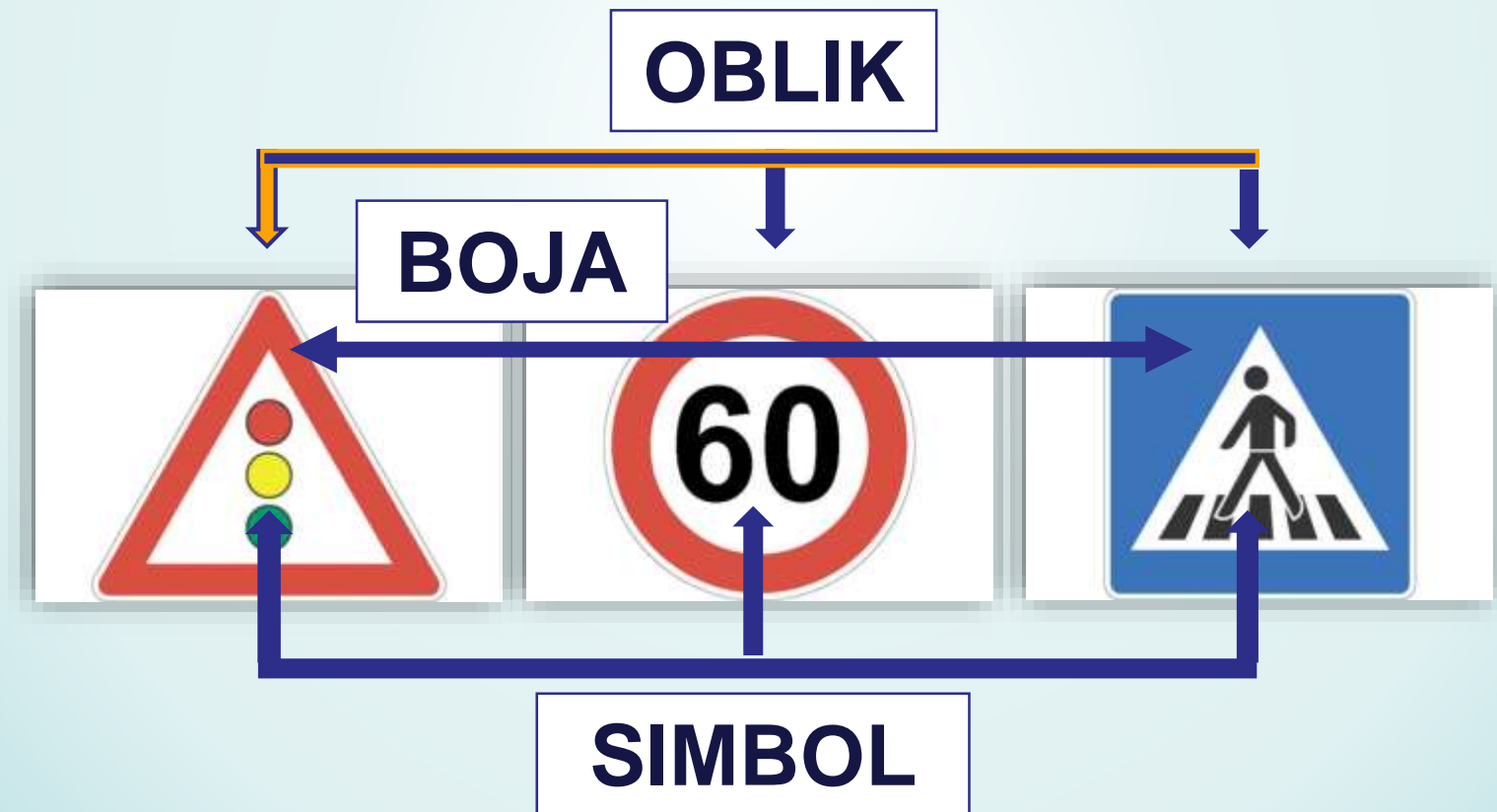
*Za sigurno sudjelovanje u prometu sudionici moraju poznavati **prometne znakove, znakove ovlaštenih osoba, prometna pravila i propise.***

# *Po čemu se razlikuju prometni znakovi?*



# Prometni znakovi

*Značenje prometnog znaka određuje:*



# Prometni znakovi



***Znakovi !***

***Trokut = opasnost!***

***Krug = zabrana, obveza ili obavijest!***

***Četverokut ili pravokutnik = obavijest!***

**Prometne  
znakove  
dijelimo na:**

**Znakovi  
opasnosti**



**Znakovi  
izričitih  
naredbi**



**Znakovi  
obavijesti**





# *Znakovi opasnosti*

**Znakovi opasnosti** upozoravaju sudionike u prometu na opasnost ili prirodu opasnosti koja im prijete na određenom mjestu ili dijelu puta.



**Obilježeni  
pješački  
prijelaz**



**Nailazak na  
prometna  
svjetla**



**Opasnost na  
cesti**



## ***Znakovi izričitih naredbi***

***Znakovi izričitih naredbi*** daju do znanja sudionicima u prometu da na označenom mjestu ili djelu prometnice kojom se kreću vrijede određene zabrane, ograničenja i obaveze.



**Ograničenje  
brzine**



**Obavezno  
zaustavljanje**



**Zabrana  
prometa za  
pješake**





# ***Znakovi obavijesti***

***Znakovi obavijesti** pružaju sudionicima u prometu obavijesti o cesti kojom se kreću i druge obavijesti koje im mogu biti korisne.*



**Obilježen  
pješački  
prijelaz**



**Školska  
patrola**



**Obilježeni  
biciklistički  
prijelaz**

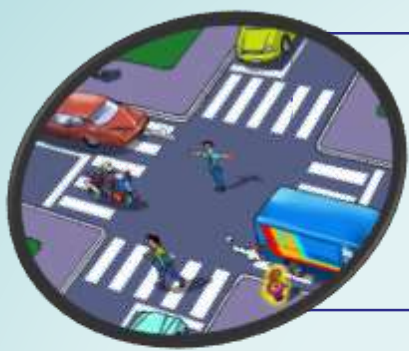


# Raskrižje

Za sigurno **odvijanje prometa na raskrižju** određen je slijedeći raspored važnosti upravljanjem raskrižjem:

1. **Prometom upravlja prometni policajac**
2. **Promet je reguliran semaforom**
3. **Promet je reguliran prometnim znakovima**
4. **Promet je reguliran pravilima**





# 1. *Prometom upravlja prometni policajac*

Policajac okrenut leđima ili prsima

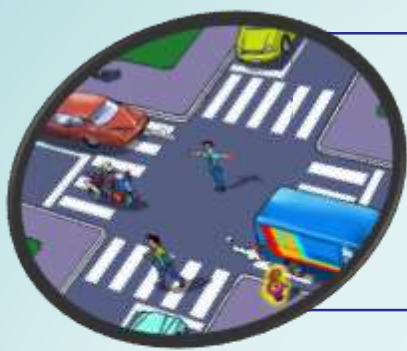


**NE SMIJE** se prijeći preko kolnika

Policajac okrenut bočno



**SMIJE SE** prijeći preko kolnika, prelazak je slobodan



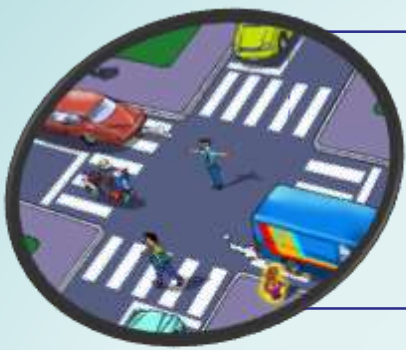
# 1. *Prometom upravlja prometni policajac*

Desna ruka podignuta okomito s otvorenom šakom, dlanom prema lijevo



-znači obvezno zaustavljanje za sva vozila ispred raskrižja i zabranu prelaska kolnika za pješake

- Stani uz rub kolnika i gledaj policajca koji će sljedeći znak dati sudionicima u prometu.

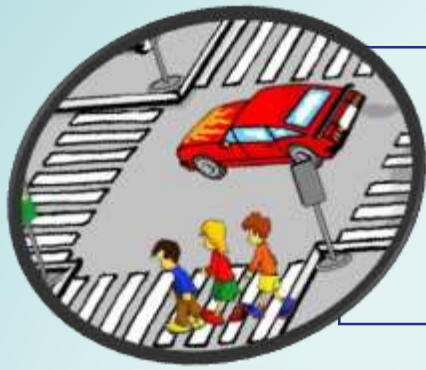


# 1. *Prometom upravlja prometni policajac*

Desna ruka vodoravno predručena s otvorenom šakom, dlanom prema lijevo



- znači zabranu prolaska za sve sudionike u prometu čiji smjer kretanja siječe smjer ispružene ruke




## ***2. Prometna signalizacija - semafor***

***Crveno svjetlo – STOP***

***Žuto svjetlo – najavljuje  
promjenu boje na semaforu***

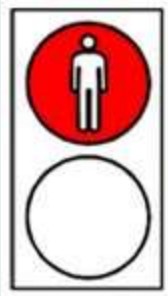
***Zeleno svjetlo – slobodan  
prolaz***





## ***2. Prometna signalizacija - semafor***

- Za pješake postoje posebni semafori koji određuju dva osnovna pravila:



**CRVENO SVJETLO** – zabranjen prelazak preko kolnika



**ZELENO SVJETLO** - slobodan prelazak preko kolnika

# 3. Promet na raskrižju upravlján znakovima



GLAVNA CESTA - CESTA S  
PREDNOŠĆU PROLAZA



STOP - OBVEZNO  
ZAUSTAVLJANJE



TROKUT - KRIŽANJE S  
CESTOM S PREDNOŠĆU  
PROLAZA



# 3. *Promet na raskrižju upravlján znakovima*



**STOP, stani, zaustavi bicikl i spusti nogu na kolnik!  
Propusti sva vozila!**



**Propusti vozila koja se kreću cestom na koju se uključuješ!**

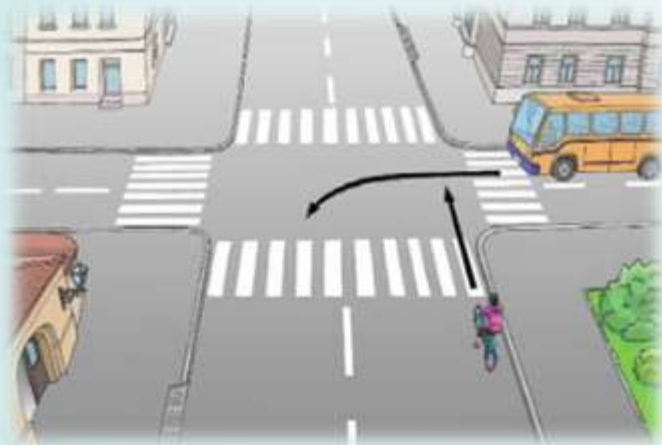
### ***3. Promet na raskrižju upravlján znakovima***



**Cesta s prednošću prolaska.  
Vozi raskrižjem!**

Nalaziš se na „glavnoj cesti“, a to znači da te sva vozila koja dolaze s lijeve i desne strane moraju propustiti.

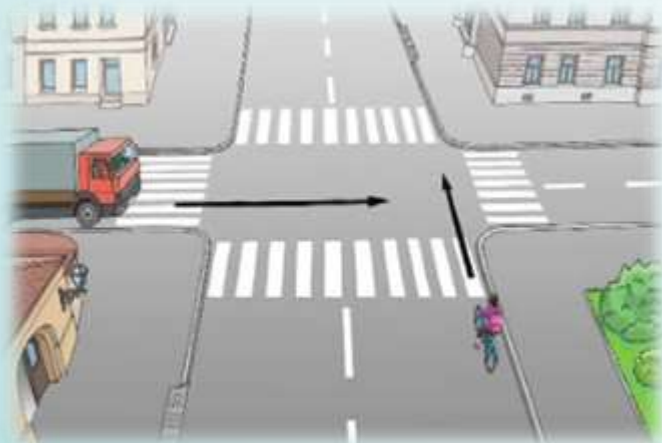
# 4. *Promet je reguliran pravilima*



**Uspori!**

**Stani i propusti vozilo koje nailazi s tvoje desne strane.**

**Potom prođi raskrižjem.**



**Vozač vozila koji ti dolazi s lijeve strane mora te propustiti.**

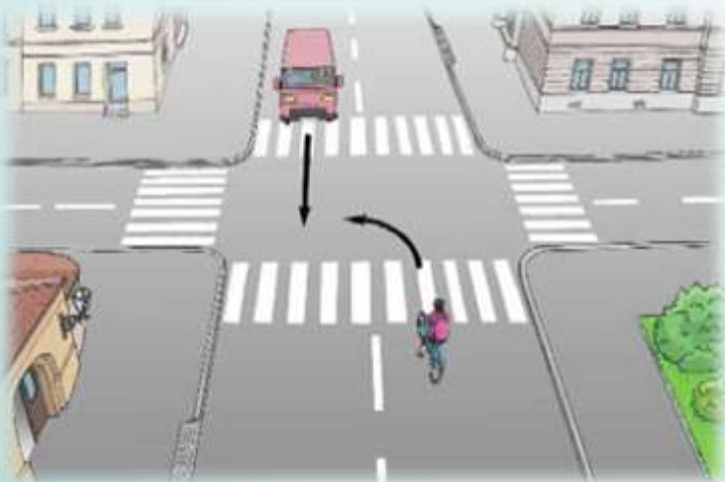
**Vozi oprezno i budi pažljiv.**

**Ne ostvaruj prednost na silu!**

## 4. *Promet je reguliran pravilima*




**Uspori! Stani i propusti vozilo koje nailazi iz suprotnog smjera i skreće udesno. Potom skreni ulijevo.**



**Uspori!  
Stani i propusti vozilo koje nailazi iz suprotnog smjera i vozi ravno. Potom skreni ulijevo.**



## 4. *Promet je reguliran pravilima*



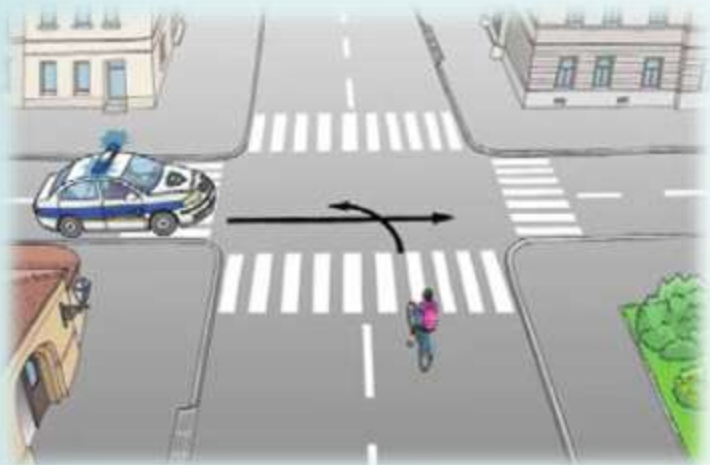
Na raskrižju cesta iste važnosti tramvaj, odnosno vozilo koje se kreće po tračnicama moraš uvijek propustiti bez obzira na to s koje ti strane nailazi.



Ako se na raskrižju cesta iste važnosti biciklom s ceste bez suvremenog kolničkog zastora (zemljana cesta, makadam) uključuješ na cestu sa suvremenim kolničkim zastorom (asfalt, beton), propusti sva vozila koja se kreću tom cestom.



## 4. Promet je reguliran pravilima



Ukoliko na raskrižju cesta istih važnosti susretneš vozila s pravom prednosti prolaska (**hitna pomoć, policija, vatrogasci, vojna policija**) koja daju posebnim uređajima svjetlosne i zvučne znakove, uvijek se zaustavi i propusti ih.

# PROMETNI ZNAKOVI I PROPISI

**Zakon** o sigurnosti prometa na cestama RH određuje ponašanje svih sudionika u prometu radi njihove sigurnosti.

**Načini upravljanja prometom:**

prometna signalizacija (prometni policajac, semafori, prometni znakovi),  
prometna pravila

**Posebna vozila s prednošću prolaska:**

policajska vozila, vozila pod pratnjom, hitna pomoć, vatrogasci (sa svjetlosnom zvučnom signalizacijom)

**Prometni znakovi:** znakovi opasnosti

znakovi izričitih naredbi

znakovi obavijesti

**Prometna pravila** određuju prednost prolaska kroz raskrižje i način kretanja sudionika u prometu kad nema prometne signalizacije.

**Vozila na tračnicama** imaju prednost ako nema druge prometne signalizacije (tramvaj, vlak).

## Provjera znanja i sposobnosti

1. Nabrojite sudionike cestovnog prometa.
2. Navedite najvažnije prometne površine u cestovnome prometu.
3. Navedite prometne površine namijenjene za sigurno kretanje pješaka, odnosno biciklista.
4. Objasnite što određuju prometna pravila.
5. Objasnite čemu služi prometna signalizacija.
6. Objasnite što određuje značenje nekoga prometnog znaka.
7. Navedite podjelu prometnih znakova.
8. Navedite gdje počinju vrijediti znakovi izričitih naredbi.
9. Navedite na kojim je mjestima osobito važno poznavati pravila o prednosti prolaska vozila..
10. Nabrojite vozila u prometu koja imaju prednost u odnosu prema svim ostalim vozilima i objasnite pod kojim uvjetom.
11. Navedite na koje načine možemo regulirati promet na raskrižju.
12. Navedite najvažnija prometna pravila koja određuju prednost prolaska na raskrižju bez prometne signalizacije.

Riješiti radni list (RL-6.3.1)